



DAGELIJKSE KOST

— MET JUF EVELIEN —

Cijferoef.: $247\ 515 + 424\ 110$

schat: 675 000

resultaat: 671 625

			1						
		2	4	7	5	1	5		
		+	4	2	4	1	1	0	
			6	7	1	6	2	5	

eenv. breuk	breuk op 100	procent	kommagetal
$\frac{1}{4}$	$\frac{25}{100}$	25%	0,25
$\frac{1}{10}$	$\frac{10}{100}$	10%	0,10

$\frac{4}{5}$ van 25 000 = 20 000

$\frac{2}{7}$ van 35 000 = 10 000

20% van 6,5 = 1,3

Zoek het kleinste gemeenschappelijke veelvoud. Omcirkel de gemeenschappelijke, markeer het kleinste.

6	0	6	12	18	24	30	36	42
12	0	12	24					

Het k.g.v. is 12.

Zoek de grootste gemeenschappelijke deler. Omcirkel de gemeenschappelijke, markeer de grootste.

24	1	24	2	12	3	8	4	6
50	1	50	2	25	5	10		

De g.g.d. is 2.

Bereken. Denk aan je rekenregels!

$13,4 + 2,85 + 5,15 = \underline{21,4}$

$0,97 + 10 + 0,03 = \underline{11}$

$0,1 + 0,02 + 0,88 = \underline{1}$

$3,75 + 5,8 + 13,2 = \underline{22,75}$

$25,8 - 4,75 - 4,25 = \underline{34,8}$

Bereken. Denk aan je rekenregels!

$154\ 200 - 8\ 800 - 44\ 200 = \underline{101\ 200}$

$23,45 - 8,45 - 12,5 = \underline{2,5}$

$431 - 4,75 - 8,25 = \underline{418}$

$13\ 500 - 4\ 998 - 2\ 500 = \underline{6002}$


$13\ 500 - 4\ 998 - 5\ 500 = \underline{3002}$

Zet om:

300 mm = 0,3 m

0,375 m = 37,5 cm

Bereken de omtrek en de oppervlakte. Noteer eerst je formule voor opp.

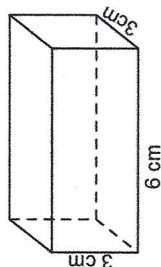


omtrek: 16 m

opp. formule: $b \times h / l \times b$

opp.: $12\ m^2$

Bereken het volume en de oppervlakte.



volume formule:

opp. grondvlak $\times h$
volume: $3 \times 3 \times 6 = 54\ cm^3$


opp. formule:

opp.: $90\ cm^2$

Meet de hoek. Teken een hoek van 90° .



Welke vlakke figuur is het?



- overstaande zijden even lang
- alle zijden zijn even lang
- overstaande hoeken zijn even groot
- alle hoeken even groot
- diagonalen zijn even lang
- diagonalen snijden elkaar middendoor
- diagonalen staan loodrecht op elkaar

Bestpassende naam: vierkant

Welke ruimtefiguur is het?




- zijvlakken zijn veelvlakken
- zijvlakken zijn rechthoeken
- 6 zijvlakken
- 6 gelijke zijvlakken (vierkanten)
- opstaande vlakken komen samen in top
- enkel gebogen oppervlakken
- grondvlak is cirkel
- grond- en bovenvlak zijn cirkels

Bestpassende naam: cilinder

Bij volleybalclub Smash spelen de spelers jonger dan 16 jaar in een ploeg. Er zijn 24 kinderen jonger dan 7 jaar. Dat is 30% van het totaal aantal jeugdspelers. Wat is het totaal aantal spelers bij de jeugd ploegen?

$24\ kinderen : 30\% \rightarrow 8 \times 10 \rightarrow 80\ kinderen$
 $= 30\% \rightarrow 10\% \rightarrow 100\%$

Antwoordzin: Er zijn in totaal 80 spelers bij de jeugd ploegen



SINDS



MAART 2020



DAGELIJKSE KOST

MET JUF EVELIEN

Rangschik alfabetisch: medaille - muts - maag - mist - mobieltje

maag medaille mist mobieltje muts

Ontleed de zinnen: 1. Achter de deur kraakte de plankenvloer.

2. Het ^o was ^{pv} haar vreselijke tante Alberta.

Markeer wat past. Zin 1 staat in de t.t. / v.t. . Zin 2 staat in de t.t. / v.t. .

Markeer wat past. Buiten was er helemaal niets te horen.

mening / feit

Noteer in de juiste kolom. Vul de andere kolom aan. p. 24 Soms hoorde ze een stem haar naam roepen.

oorzaak	gevolg
Ze hoorde haar naam roepen.	Ze holde naar de kamer van haar ouders

Kleur: zelfstandig naamwoord : rood bijvoeglijk naamwoord: groen werkwoord: blauw lidwoord: oranje

~~knieën~~ - ~~oud~~ - ~~gangen~~ - ~~spookte~~ - ~~de~~ - ~~doodsbang~~ - ~~Stella~~ - ~~wiebelen~~

Onderzoek het z.n.: raam

meervoud	ramen
verkleinwoord	raampje
geslacht	m v o

Onderzoek het z.n.: huis

meervoud	huizen
verkleinwoord	huisje
geslacht	m v <u>o</u>

Vul de trap van vergelijking aan. Zet eerst op de juiste plaats: grootste

groot groter grootste

Zoek het boven- / onderliggend begrip.

bomen	kleuren
eik	wit
den	rood

Zoek een synoniem.

angstaanjagend	akelig, vreselijk, ...
----------------	------------------------

Zoek een tegengestelde.

verste	dichtste
--------	----------

Dicteer Classroom


afschuwelijke
hoogjaard
het gezicht
vreemd
misselijk

Werkwoordspelling Classroom

het licht brandde
de trui jeukt
ze heeft gelege
het lichaam valde
het lichtte op

Zin Classroom

Ze probeerde haar knieën te buigen en haar armen geconcentreerd op te heffen.



SINDS



MAART 2020

DAGELIJKSE KOST

— MET JUF EVELIEN —

X Lis (lees) les chiffres

3 578

5 357

20 789

30 890

643 287

X Copie sans fautes:

Les oiseaux chantent dans le bois, parce qu'il ne fait plus froid. Ils sont heureux quand leurs petits sortent des oeufs.

Traduis (vertaal) + cherche 1 mot pour chaque image (zoek een woord voor elke foto)

un village	een dorp
un mur	een muur

veel katten	beaucoup de chats
een zak	un sac

Les verbes

Zijn

Vertrekken

houden van

Zingen

=	être	partir	aimer	chanter
je	suis	pars	aime	chante
tu	es	pars	aimes	chantes
il/elle	est	part	aime	chante
nous	sommes	partons	aimons	chantons
vous	êtes	partez	aimez	chantez
ils/elles	sont	partent	aiment	chantent

Traduis les verbes (vertaal de werkwoorden)

ik speel (jouer)	je joue
hij zoekt (chercher)	il cherche

jullie dragen (porter)	vous portez
zij (m) hebben (avoir)	ils ont

au / à la / à l' / aux ?

Je vais au magasin. (à + le)Je pense à la maman d'Angy.

du / de la / de l' / des ?

Quel est le texte du message?. (de + le)C'est la voiture de l' homme.

à / en ?

On va en taxi.Elles vont en train.

Vul het bijvoeglijk naamwoord in. Zet in het meervoud.

warm

du chocolat chaud

→

des chocolats chauds

warm

une tomate chaude

→

des tomates chaudes

Zeg dat het niet zo is (ne ... pas / ne ... plus / ne ... jamais)

Tu as un chien?

Non, je n'ai pas de chien

Tu bois parfois du café?

Non, je ne bois jamais de café